

第一部分：歷史

- 埃及有一則著名的神話故事：「奧塞利斯是一位受人民愛戴的君主，他的兄弟塞特覬覦王位，將他害死並裝進人形棺丟入尼羅河。當奧塞利斯的妻子伊西斯好不容易找回丈夫屍體時，塞特又將屍體支解為十四塊散落在尼羅河中。伊西斯將丈夫屍塊一一尋回，縫合起來並用繃帶固定，在神的幫助下，奧塞利斯死而復生。」根據上文，奧塞利斯死而復生，代表循環不息的再生力量，他應是埃及人所崇拜的哪一位神祇？  
(A)太陽神 (B)尼羅河神 (C)善神阿胡拉·馬茲達 (D)耶和華
- 上歷史課時，老師以兩河流域文明為題，請同學們說說兩河流域古文明的相關狀況。同學們搶著發言，老師要大家一個個輪流說。最後，只有博恩說對了，請問博恩說的內容是什麼？ (A)波斯人最早在兩河流域建立城邦，發明了通行於西亞的楔形文字。 (B)腓尼基人居住於地中海東岸，擅長航海經商。 (C)此地文明自蘇美人開始，活躍在此地區的民族皆是馬其頓民族 (D)兩河流域希伯來國王曾制定漢摩拉比法典，強調「以牙還牙，以眼還眼」。
- 請比較《漢摩拉比法典》與《十二表法》，選出正確的敘述： (A)前者已有公平保障公民權利的概念，後者強調依罪犯身分不同而處罰有差別 (B)兩者均充滿階級意識，且為成文法典，無法使公民的權利獲得保障 (C)兩部法典皆啟迪斯巴達的民主政治及《查士丁尼法典》的編纂 (D)《漢摩拉比法典》是兩河流域地區的產物，《十二表法》則是羅馬人最早的成文法。
- 一顆刻著「獻給最美麗的女神」的金蘋果，引起愛神阿芙羅黛蒂、天后希拉、戰爭女神雅典娜的爭奪，天神宙斯指示三人找特洛伊王子巴里斯仲裁，阿芙羅黛蒂答應給巴里斯世上最美的女人而得到金蘋果，她帶著他去找斯巴達王后海倫，海倫和巴里斯私奔，也種下特洛伊戰爭發生的原因。有關於希臘神話，下列敘述何者錯誤？ (A)希臘神明和人一樣具有七情六欲，亦會爭風吃醋 (B)天神宙斯應為希臘神明的領導者，且希臘宗教信仰屬於多神信仰 (C)希臘人為了取悅神明，每四年會在奧林匹亞舉辦盛大祭神慶典 (D)希羅多德的歷史一書，即是以這場特洛伊戰爭為題材。
- 西元 1453 年哪一民族消滅了拜占庭帝國，移除了君士坦丁堡內聖索菲亞教堂中的畫像，改用《古蘭經》經文裝飾，並在教堂四周加上伊斯蘭式的尖塔，成為清真寺？ (A)波斯人 (B)鄂圖曼土耳其人 (C)日耳曼人 (D)埃及人
- 羅馬帝國是史上第三個橫跨歐亞非三洲的大帝國，國勢強盛且版圖遼闊，文化亦高度發展，關於羅馬「帝國」時期的敘述何者正確？ (A)羅馬直到帝國時期才開始對外擴張，使地中海成為內海。 (B)羅馬人在此時期開始將傳統的法律及各地的風俗彙編成「十二表法」。 (C)羅馬帝國後期，飽受經濟惡化、日耳曼人入侵等內憂外患，查士丁尼皇帝只好在拜占庭另建新都，加強對東方各省控制。 (D)屋大維擊敗群雄，結束紛亂局面，接受奧古斯都的尊號，集行政、立法、司法等大權於一身後，羅馬進入帝國時期。
- 西元前八世紀，羅馬人已開始在義大利中部的臺伯河畔建立羅馬城，之後經過幾世紀的發展，這股勢力稱霸整個地中海地區。在這個過程中，政治發展也經歷幾個政體，如果依歷史發展順序排列，下列何者正確？ (A)帝制→共和→王政 (B)王政→帝制→共和 (C)王政→共和→帝制 (D)共和→王政→帝制。
- 哥倫布曾被西方人譽為「人類歷史上最偉大的航海家」，其「發現」新大陸的事蹟更是家喻戶曉。但是近年來西方社會在反思歷史的同時，這名航海家的歷史地位將被重新定義。請問：以下的敘述中，何者與上文最無關？  
(A)美國總統拜登宣布，原定的「哥倫布日」亦同時是「原住民日」。  
(B)研究發現，11 世紀北歐維京探險家萊夫·埃里克森 (Leif Erikson) 曾經到過北美，比哥倫布早了 500 年。這樣的說法已被部分教科書所採用。  
(C)在墨西哥城，市政府已經決定用一座無名女性原住民雕塑代替哥倫布紀念碑。  
(D)英國「拯救雕像」維權活動批評塗污哥倫布雕像的行動是「對西方文明發起攻擊」。
- 在歐洲國家積極向外擴張後，陸續佔領了許多國家或地區，並展開殖民統治。請問：何者的殖民母國不同於其他三個地區／國家？  
(A)澳洲 (B)馬尼拉 (C)墨西哥 (D)台灣北部。
- 「從地球上，行星看起來好像在星座之間移動，時快時慢，而且間中還會出現逆行現象。為了解釋逆行，一個行星被配以多個不同轉動方向和速度的同心球。因為這些同心球都以地球作為共同的中心，所以地球與各個行星之間的距離保持不變。」從上文與所學推論，下列敘述何者最為正確？  
(A)這項理論是「太陽中心說」。  
(B)此為哥白尼所提出的理論。  
(C)伽利略證明此理論並不正確。  
(D)這項理論在中世紀受到基督教的駁斥。
- 「『他』無意挑起一場騷亂，只是反對贖罪券這一制度，從未打算煽起世俗老百姓對於教會的偏見。很不幸的，在那樣的時代，想要心平氣和討論任何宗教問題根本是不可能的。此刻開始，『他』掀起了宗教改革，並注定與教皇之間不可能再有和平。」請問：關於本文的敘述，下列何者最為正確？  
(A)「他」隨後成立的教派主張「預選說」。  
(B)反對整個羅馬教會是「他」一開始行動的訴求。  
(C)上述內容發生於義大利。  
(D)從文中推知，早期的基督教缺乏對異議的包容。
- 科學革命的背景為理性精神的萌芽，人們不再盲目相信宗教或權威。請問：下列何者對促成科學革命的理性精神最無關聯？  
(A)第一次基督教分裂 (B)文藝復興  
(C)新工具的發明 (D)新航道的發現。
- 法律為穩定人類社會秩序的依歸，縱貫古今，世界各地常見因不同文化而孕育出的法律典籍。請問：關於世界史上的法律典籍，下列敘述何者最為正確？  
(A)巴比倫的漢摩拉比法典主張法律之前人人平等。  
(B)羅馬共和時期所編纂的十二表法，將公民權利列入其中。  
(C)拜占庭帝國的查士丁尼法典經由阿拉伯人東傳，成為中國法律的典範。

(D) 法律規範有其時空限制，因此現代的法律制度與歷史上的法典無關。

14. 義大利位於地中海的中心，自古為各文明與文化的交會處。請問：以下敘述中何者與義大利最有關聯？

- (A) 啟蒙運動的重鎮。
- (B) 文藝復興的發源地。
- (C) 宗教改革起源地。
- (D) 亞歷山大東征。

15. 「有人提出質疑，認為高度的自由可以和社會與政治穩定同時並存嗎？一個權力受限的憲政政府，會不會演變成無政府狀態或專制制度呢？為了預防這些現象，許多人認為有必要建立……」請問：由上文推斷，「……」應該接續的下文為：

- (A) 絕對權力的獨裁政府。
- (B) 自由放任的經濟模式。
- (C) 立法、司法、行政三權分立的制衡機制。
- (D) 人民直選的投票制度。

第二部分：地理

16. 颶風對於美洲地區的影響不亞於颱風對於東亞地區的影響，圖(一)是美國國家颶風中心 2020 年 8 月 24 日的預報，圖中已有兩個颶風生成，其中，編號 1 號的颶風首先影響到美國哪一個地理區？

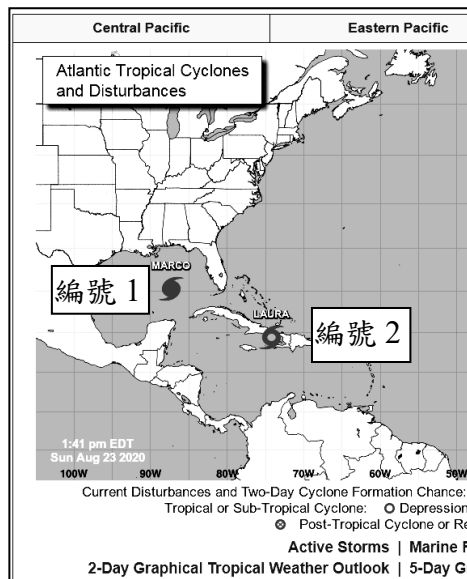
- (A) 五大湖區 (B) 阿帕拉契山 (C) 西印度群島 (D) 北美大平原

17. 小新家中經營複合式餐廳，由於父親熟識專跑美洲海運的貿易商，所以許多原料都從美洲進口，從圖(一)中編號 2 颶風所在位置判讀，餐廳中哪一品項與原料在當下受到編號 2 颶風天災影響原物料供應？

- (A) 玉米粉鬆餅 (B) 甘蔗甘心茶 (C) 加州蔓越莓茶 (D) 美國金牌麵粉

18. 美洲地區因為有赤道經過，使得多數氣候類型具備南北對稱特性，影響氣候分布的要素有洋流、盛行風、距海遠近等，其中，南美洲欠缺溫帶大陸性氣候的因素是：

- (A) 陸地輪廓 (B) 緯度太高 (C) 四面環海 (D) 高原居多



圖(一)

19. 當海底發生大規模淺層地震時，可能會造成海底地形變動，從而引起水體擾動並成長週期的波浪，此稱為海嘯。圖(二)是當日本東部海岸發生地震後所引發的海嘯傳播等延時線圖，從圖中判定，若海嘯能持續影響到美洲地區，美洲哪一個城市是最快受到海嘯的影響？

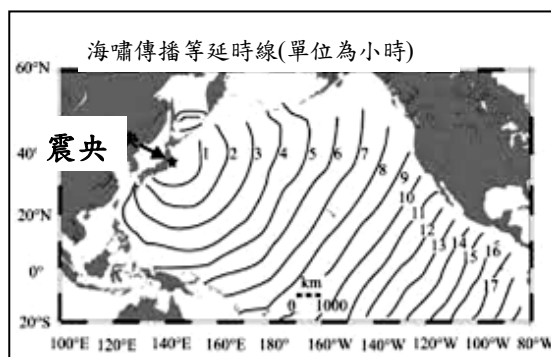
- (A) 巴西里約熱內盧 (B) 智利聖地牙哥 (C) 美國西雅圖 (D) 美國邁阿密

20. 2021 迪士尼推出了最新動畫電影魔法滿屋，劇情描述到 Madrigals 是一個非凡的家庭，他們生活在哥倫比亞山區一個叫做 Encanto 的迷人地方，Encanto 的魔力給這個家庭每個孩子都帶來了獨特的天賦——除了主角 Mirabel。哥倫比亞位於南美洲西北側，而 Encanto 在哥倫比亞國家語言中原意為「施魔法、魅力、吸引力」，請問哥倫比亞的國家官方語言是：

- (A) 英文 (B) 法文 (C) 西班牙文 (D) 斯拉夫語

21. 6. 世界上的葡萄酒產區位於 30° 至 50° 之間，主要生產國家包含了美國、法國、智利、澳洲、義大利等……，越靠近赤道的產區收穫季越早。採收季節在夏、秋之際，而葡萄收穫期是葡萄酒釀造的一個關鍵步驟，其時間影響著葡萄中的糖、酸等物質的水平，並最終取決於想要釀造的葡萄酒種類，不同的天氣也會對葡萄收穫期產生影響，並可能導致葡萄患病。圖(三)是某國頂級酒莊所生產的葡萄酒，此葡萄酒應該是出產於哪一國家？

- (A) 智利 (B) 法國 (C) 美國 (D) 義大利



圖(二)

拉虎亞卡貝納頂級紅葡萄酒  
產區：Colchagua Valley  
品種：Cabernet Sauvignon  
土壤：沖積土與崩積土混合  
採收期：2020 年 4 月第一週  
酒質特性：酒體結構飽滿，成熟  
水果新鮮味道，乳脂般綿密的尾韻  
建議搭配食物：紅肉、羊肉、義

圖(三)

22. 當代咖啡市場廣大，根據國際咖啡組織 (ICO) 調查，台灣咖啡市場一年產值約 800 億元，據統計，台灣人均咖啡每年消費杯數約 204 杯，相較日本、南韓的 353 杯及 370 杯，還有其市場成長的空間。圖(四)是世界主要種植咖啡的某一區域，此區域發展此相關產業已有一段時期，下列哪一個描述是屬於此區域咖啡產業發展特色？

- (A) 日本在此殖民時期，開始種植大量咖啡
- (B) 所生產的大量咖啡，都供給產區的農民
- (C) 善用當地土地資源，種植多樣糧食作物
- (D) 隸屬於熱帶栽培業，仰賴當地勞力採收



圖(四)

23. 巴西東南部米納斯吉拉斯州 (Minas Gerais) 一座鐵礦場於 2019 年發生倒塌事故，除了造成人員傷亡，更影響了該鐵礦開採公司當時營運。而巴西鐵砂出口本就是世界第二名，而龐大的鐵礦應分布於巴西哪一地形區中？

- (A)
- (B)
- (C)
- (D)

24. 北美洲五大湖工業發達，是美國與加拿大的精華區之一，發展的條件除了是東部與西部往來交通樞紐，湖水位差異與礦產資源更提供產業發展基礎，請問形成五大湖的作用力與下列何者相同？

- (A) 挪威峽灣 (B) 美國大峽谷 (C) 北美大平原 (D) 安地斯山脈

25. 美國職棒春季訓練營 (MLB Spring Training)，通常是在每年二月底到三月初舉行，時間大概為期一個月，主要有兩個聯盟，其中一個是以佛羅里達州做為集訓基地的葡萄柚聯盟 (Grapefruit League)，之所以取名為葡萄柚，因

為是熱帶作物，更盛產於當地，參與球隊有紐約洋基隊、底特律老虎隊、多倫多藍鳥隊等。請問：上述球隊於二月底集中在此處訓練的地理要素是？

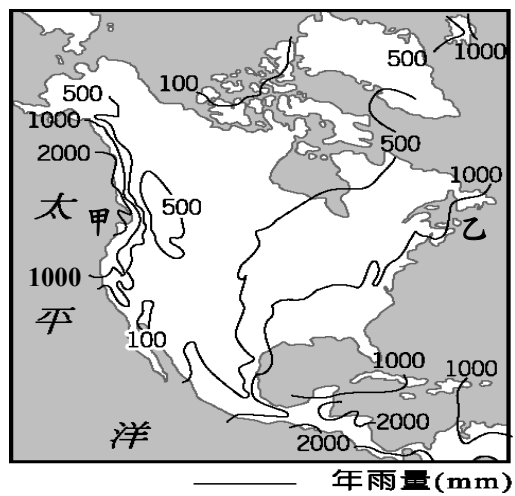
- (A)涼流流經，氣候舒適 (B)緯度較低，氣溫較高 (C)葡萄柚可以補充體能 (D)北有高山阻擋冷空氣南下

26. 水，會影響人類聚落的發展，全球各區域導致降水類型與降水多寡各有其不同影響要素，圖(五)是北美洲年降水量分布圖，從圖中可以判讀出相同緯度的甲與乙其降水量有所差異，造成此差異的原因是：

- (A)盛行風向不同 (B)海陸位置分布 (C)甲地形較為平坦 (D)乙區有寒流流經

27. 鐵鏽地帶(Rust Belt)指的是美國傳統工業發展地區，在19世紀後期到20世紀初期美國的重工業中心，五大湖區匹茲堡、密爾瓦基、克里夫蘭等工業城市也一度相當發達。然而在產業轉型與升級之後，這些地區的重工業紛紛衰敗，很多工廠被廢棄，而工廠裡的機器漸漸布滿了鐵鏽，因此被稱為了鐵鏽地帶。上述的鐵鏽地帶城市共同的地理特徵是：

- (A)地質古老 (B)全年有雨 (C)濱臨海洋 (D)新褶曲地形



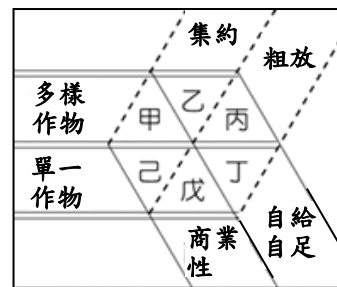
圖(五)

28. 美洲有一個國家將多元文化納入憲法，開始逐漸轉型成正義與包容的國家，該國人口組成：歐洲裔占了72.9%、亞裔占了16.4%、原住民(印第安人、因紐特人)占了4.9%，其餘則是少數非洲裔與拉丁美洲裔。也由於自然條件限制使得人口稀少，該國家更鼓勵各地區人民移民至此，上述的國家是：

- (A)美國 (B)巴西 (C)阿根廷 (D)加拿大

29. 美洲地區的第一級產業發展有著區域差異，例如：阿根廷農牧兼顧的混合農業；安地斯山脈北段土地垂直利用等。圖(六)是農業發展重要的特徵，其中，北美大農作帶特色應是圖中何者？

- (A)乙 (B)丙 (C)戊 (D)己



圖(六)

30. 2021年3月底長榮海運貨輪「長賜輪」號在蘇伊士運河南端擱淺，造成運河大堵塞，許多貨船在地中海與紅海「大排長榮」，嚴重影響全球貨運與供應鏈。全球有許多連洋運河與海峽具有舉足輕重的交通機能，當巴拿馬運河有船隻擱淺，並阻礙了此運河運作機能，對於以下哪兩個城市之間海運貨船影響最大？

- (A)古巴哈瓦那-美國紐約 (B)美國新奧爾良-美國洛杉磯  
(C)加拿大溫哥華-中國上海 (D)阿根廷布宜諾斯艾利斯-荷蘭鹿特丹

第三部分：公民

31. 同一件事可能因為不同誘因的加入，導致機會成本發生改變，進而影響我們的選擇。下列何項行為不適合以誘因解釋？

- (A)文文因吃得太飽而不停打嗝  
(B)大樂想獲得獎金而參加比賽  
(C)小淑為贏得獎盃而辛苦練跑

32. 寒流來襲，陳雙帶了500元到服飾店買保暖外套，試穿到一件羽絨外套覺得相當滿意，卻看到標價寫著1,200元，而且店家表示絕不二價，最後她只好選擇空手而歸。下列何者為陳雙選擇空手而歸的最主要原因？

- (A)由於喜好，所以做出選擇  
(B)促銷打折，所以做出選擇  
(C)金錢有限，必須做出選擇

33. 相同資源帶給每個人的滿足程度不盡相同，因此人們時常把主觀的滿足程度轉換成客觀可以衡量的單位，以方便選擇。下列何者即採用上述方法來進行資源分配？

- (A)使用者付費  
(B)輪流使用  
(C)抽籤決定

34. 因為物價上漲，雞排店老闆的生產成本增加，因此將雞排的售價從45元調整為65元。從價格因素來看，若消費者的所得及其他條件不變，消費者願意購買雞排的數量最有可能產生何種變化？

- (A)不一定，消費者可能多買，也可能會少買  
(B)不管價格有無變動，想買的數量不會改變  
(C)本來3天吃一次，可能會改成每週吃一次

35. 開燒烤店的解老闆為因應中秋假期烤肉人潮而購置自動燒烤機，如此做法將增加何項投入資源的支出？

- (A)租用土地  
(B)聘雇員工  
(C)購買設備

36. 連鎖超商經常會祭出飲料第二件7折的促銷方案，此類促銷方案是想利用何種策略賺取利潤？

- (A)增加銷貨收入  
(B)降低生產成本  
(C)提高產品價格



37. 小香和阿凱兩人正在討論最近新買的衣服，從右圖兩人的對話中，可以看出貨幣的何種功能？

- (A) 價值儲存
- (B) 交易媒介
- (C) 價值衡量



38. 根據右圖，下列對話何者最可能發生在此變化之後？

- (A) 最近要向美國廠商多進口一些商品
- (B) 之前應該多買一些美元存銀行定存
- (C) 最近應該會有很多美國人來臺灣玩

39. 小茹在網路上購買一件小洋裝，收到貨時卻發現和賣家網站照片上的顏色不一樣，她打給賣家想要退貨，但賣家聲稱貨物既出，概不退還，頂多只能夠接受更換其他商品。下列有關小茹處理此次消費糾紛的方式，何者恰當？

- (A) 自認倒楣，默默接受不適合的商品
- (B) 向消費者服務中心尋求專業的協助
- (C) 委曲求全，同意賣家更換其他商品

40. 為了保障契約當事人的權利與義務，確保雙方當事人均能獲得公平的對待，民法訂有若干原則，下列何者被視為是最高指導原則？

- (A) 契約自由原則
- (B) 依照法律規定
- (C) 誠實信用原則

41. 今天輪到筑攻當值日生，負責整理班級環境，並在中午幫同學盛飯。她早上刷牙洗臉後就出門搭公車上學，進校門前到早餐店買了早餐。上數學課前，她發現忘記帶圓規，便向隔壁班的同學借，並和同學約好放學後一起去練舞。筑攻這天的行為中，屬於契約行為的是？

- (A) 整理班級環境
- (B) 刷牙洗臉
- (C) 買早餐、

42. 小明15歲，依我國現行民法判斷，應屬於何種行為能力人？

- (A) 無行為能力人
- (B) 限制行為能力人
- (C) 完全行為能力人

43. 和解是民事紛爭的解決途徑之一，下列有關和解的敘述，何者正確？

- (A) 和解可以分為訴訟上強制和解與訴訟外任意和解
- (B) 訴訟外和解是由雙方當事人私下溝通以達成共識
- (C) 訴訟上和解與訴訟外和解方式不同，但效力相同

44. 同學們分組討論民事訴訟制度的相關規定，下列何者的敘述正確？

- (A)
- (B)
- (C)



45. 林先生希望透過「仲裁」來處理最近發生的一些法律糾紛，下列對此糾紛解決方式的描述，何者正確？

- (A) 當事人須針對得和解或調解的民事爭議事項，預立書面協議
- (B) 專業省時又省錢
- (C) 是由雙方當事人進行溝通後，自行達成協議的私力救濟方式